



ЛИЦЕЙ НИУ ВШЭ

Вторая часть комплексного теста
Задания по ГЕОГРАФИИ 2021 ДЕМО

Выполните задания (20 баллов).

Задание 1.

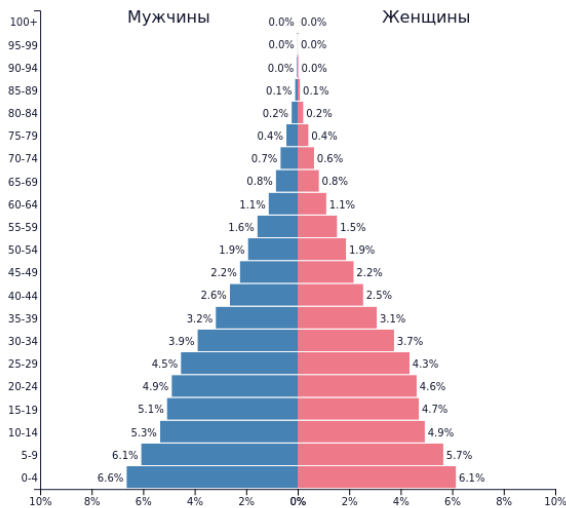
Вставьте пропущенные слова:

Африка – _____ (1) по площади материк планеты – выделяется своеобразным географическим положением, располагаясь симметрично относительно _____ (2). Подобная особенность определила отчасти зеркальную структуру расположения природных зон: крайний север и юг материка находятся в зоне _____ (3) климата, продвигаясь в более низкие широты мы попадаем в пояс величайших тропических пустынь мира. Расположенной в северном полушарии крупнейшей мировой пустыни – _____ (4) в южном полушарии соответствуют пустыни _____ (5) и _____ (6). _____ (7) – одна из удивительных пустынь – ее стометровые краснопесчаные барханы подходят непосредственно к берегу _____ (8) океана. И тянутся вдоль него на сотни километров. Частые туманы и штормы, порождаемые холодным _____ (9) течением, создают опасные условия для судоходства. Потерпевшие кораблекрушение, которым посчастливилось выжить и добраться до земли, оказывались среди одной из самых сухих и неблагоприятных для жизни пустынь мира в сотнях километров от населённых пунктов и источников питьевой воды; они почти не имели шансов выжить и умирали тут же, на берегу, вследствие чего он и получил своё название пугающее название Берега _____ (10).

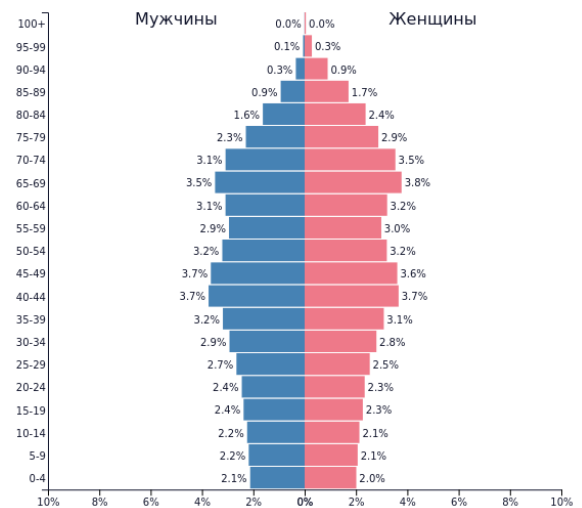
Задание 2.

Сравните приведенные на рисунке половозрастные пирамиды разных стран А, В, С, D.

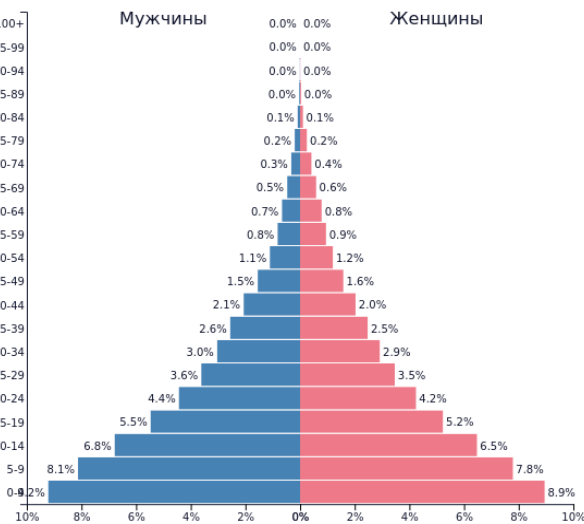
На рисунке представлены четыре половозрастные пирамиды, отражающие структуру населения некоторых стран. Проанализируйте изображения и сопоставьте, какой из стадий демографического перехода будет соответствовать та или иная половозрастная пирамида. Основываясь на общих закономерностях взаимосвязей возрастной структуры населения с показателями младенческой смертности, уровнем урбанизации и показателем средней продолжительности жизни заполните таблицу.



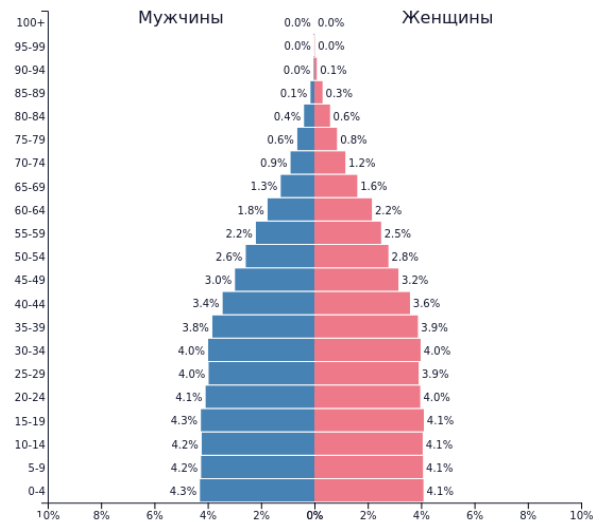
A



B



C



D

Тип половозрастной структуры населения	Ранг (место) по уровню младенческой смертности (1-макс)	Ранг (место) по уровню урбанизации (1-макс)	Ранг (место) по величине средней продолжительности жизни (1-макс)
A			
B			
C			
D			

Задание 3.

В ниже приведенной таблице указаны отрасли промышленности.

Распределите предложенные города-промышленные центры по преобладающим отраслям, приведите примеры городов-промышленных центров со схожей специализацией. Укажите принадлежность городов к субъектам федерации.

Саяногорск, Сегежа, Чебоксары, Карабаш, Ростов-на-Дону, Набережные Челны

Ведущая отрасль промышленной специализации	Город-промышленный центр из списка (1)	Город промышленный центр сходной отраслевой специализации (2)	Субъект федерации (регион), в котором расположены города (1) и (2)
Целлюлозно-бумажная промышленность			
Гражданское авиастроение			
Производство алюминия			
Тракторостроение			
Медная промышленность			
Автомобилестроение			