



ЛИЦЕЙ НИУ ВШЭ

Вторая часть комплексного теста
Задания по **ГЕОГРАФИИ**
ДОПОЛНИТЕЛЬНЫЙ НАБОР 2021 (11 класс) ДЕМО

Выполните задания (20 баллов).

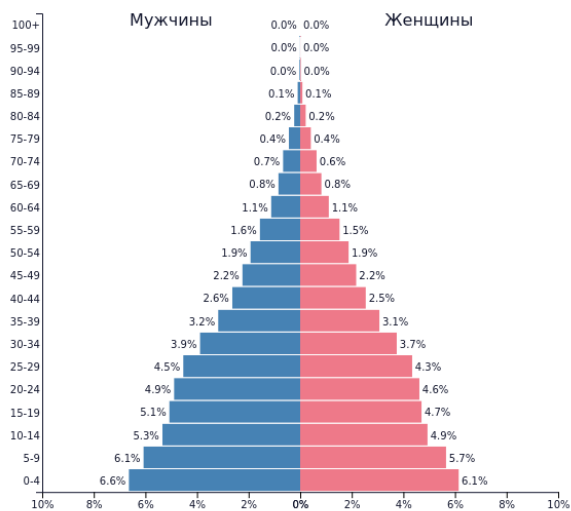
Задание 1.

Вставьте пропущенные слова:

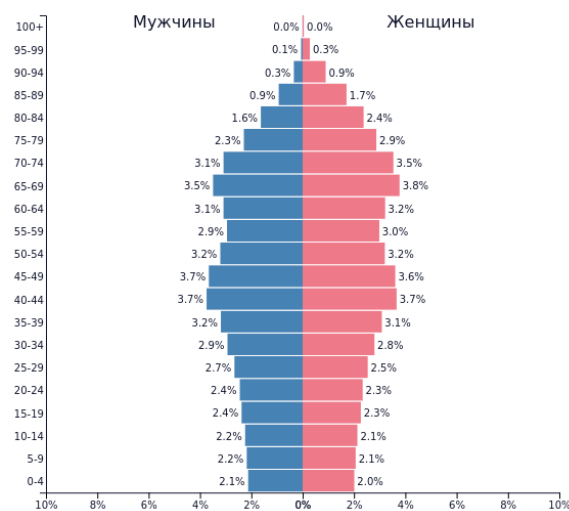
Африка – _____ по площади материк планеты – выделяется своеобразным географическим положением, располагаясь симметрично относительно _____. Подобная особенность определила отчасти зеркальную структуру расположения природных зон: крайний север и юг материка находятся в зоне _____ климата, продвигаясь в более низкие широты мы попадаем в пояс величайших тропических пустынь мира. Расположенной в северном полушарии крупнейшей мировой пустыни – _____ в южном полушарии соответствуют пустыни _____ и _____. _____ – одна из удивительных пустынь – ее стометровые краснопесчаные барханы подходят непосредственно к берегу _____ океана. И тянутся вдоль него на сотни километров. Частые туманы и штормы, порождаемые холодным _____ течением, создают опасные условия для судоходства. Потерпевшие кораблекрушение, которым посчастливилось выжить и добраться до земли, оказывались среди одной из самых сухих и неблагоприятных для жизни пустынь мира в сотнях километров от населённых пунктов и источников питьевой воды; они почти не имели шансов выжить и умирали тут же, на берегу, вследствие чего он и получил своё название пугающее название Берега _____.

Задание 2.

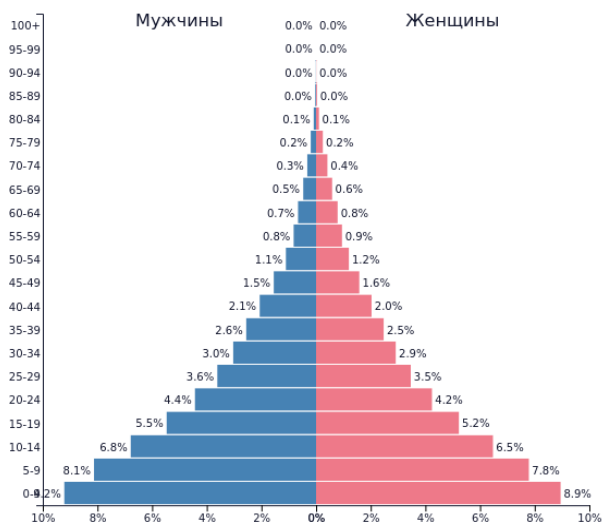
Сравните приведенные на рисунке половозрастные пирамиды разных стран. А, В, С, D.



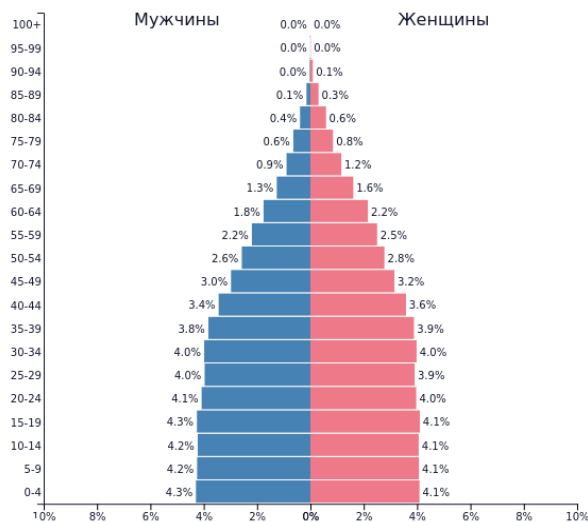
A



B



C



D

Ответьте на следующие вопросы:

- 1) Укажите страну с максимальным общим коэффициентом рождаемости
- 2) В какой из стран будет отмечаться максимальный общий коэффициент смертности
- 3) В какой из стран будет минимальным показатель младенческой смертности

Укажите страны по фазам демографического перехода:

- 4) Страна, характеризующаяся традиционным типом воспроизводства населения
- 5) Страна незавершенного демографического перехода
- 6) Страна, находящаяся в финальной стадии демографического перехода

Задание 3.

Решение задач на факторы размещения – является классическим примером экономико-географических исследований. Причины, которые определяют размещение производств очень многообразны. В реальности большинство факторов действуют взаимосвязано, между ними существует тесная зависимость, однако для многих отраслей промышленности есть 1-2 определяющих фактора – условия без которых «нельзя». *Ваша задача вспомнить взаимосвязи различных отраслей и факторов, определяющих их размещение. В разделе комментарии краткими тезисами обоснуйте свой выбор, приведите примеры существующих промышленных центров, подтверждающих ваше решение.*

Заполните таблицу, перечислив отрасли промышленности, связанные с факторами размещения. Обоснуйте свой выбор

<i>Фактор размещения</i>	<i>Отрасль промышленности</i>	<i>Комментарии и примеры</i>
Транспортный		
Энергетический		
Сырьевой		